



Liczba punktów:	
-----------------	--

WOJEWÓDZTWO Szkoła -

..... W

Imię i nazwisko ucznia Klasa

Uwaga!

- Na rozwiązanie wszystkich zadań części I etapu centralnego masz 50 minut
- Pamiętaj, że odpowiedzi udzielasz długopisem w kolorze niebieskim lub czarnym
- Nie można używać ołówków ani korektorów (za ich stosowanie Twoja praca zostanie zdyskwalifikowana i za całość otrzymasz 0 pkt.)
- Każde skreślenie, poprawka i nieczytelna odpowiedź traktowane są jako odpowiedź błędna. Tak więc udzielając odpowiedzi, zastanów się najpierw zanim dokonasz odpowiedniego wpisu czy zaznaczysz odpowiedź
- Z boku każdego zadania masz wpisaną liczbę, która wskazuje, ile można uzyskać punktów za dane zadanie
- Jeżeli w zadaniach jednokrotnego czy wielokrotnego wyboru zaznaczysz (zakreślisz) więcej odpowiedzi niż liczba z boku, za całe zadanie otrzymasz 0 pkt., podobnie jak i w zadaniach, gdzie masz wymienić określoną liczbę odpowiedzi a wymienisz więcej (np. zamiast jednej – dwie, albo zamiast czterech – pięć) – wówczas także otrzymasz za dane zadanie 0 pkt.
- Na ostatniej stronie testu masz brudnopis, który nie będzie podlegał ocenie
- Sprawdź, czy masz wydrukowane czytelnie 4 strony arkusza, ewentualne braki zgłoś członkowi Komisji

1. Do podanego opisu dopisz imię i nazwisko prezydenta II lub III RP: /3

a/ Polski polityk i działacz spółdzielczy, herbu Nałęcz, ps. „Wacław”. Związany z ruchem robotniczym – od 1891 w Zjednoczeniu Robotniczym, od 1892 w Polskiej Partii Socjalistycznej, później na emigracji.

b/ Polski polityk i historyk. W okresie PRL działacz opozycji demokratycznej, w latach 1990–1991 i 1992–1993 wiceminister obrony narodowej, w latach 1991–2010 poseł na Sejm I, II, III, IV, V i VI kadencji, w latach 2000–2001 minister obrony narodowej.

c/ Polski inżynier hydrotechnik, elektryk, profesor Politechniki w Zurychu, minister robót publicznych, minister spraw zagranicznych.

2. Podaj trzy stany nadzwyczajne, które wymienia XI rozdział konstytucji RP: /3

-
-
-

3. Wymień dwa rodzaje konstytucji ze względu na procedurę powstawania: /2

-
-

Razem pkt. za zad. 1-3 -/8

4. Podaj imię i nazwisko obecnych ministrów w Radzie Ministrów RP: /4

a/ minister klimatu i środowiska -

b/ minister spraw zagranicznych -

c/ minister edukacji i nauki -

d/ minister do spraw Unii Europejskiej -

5. Podaj, na czyj wniosek odbywa się referendum lokalne w RP: /3

-

-

-

6. Do podanych wyjaśnień dopisz właściwe pojęcia: /5

a/ rodzaj mandatu przedstawiciela, który reprezentuje swoich wyborców i powinien wykonywać ich zalecenia -

b/ ograniczenie odpowiedzialności prawnej (w szczególności odpowiedzialności karnej) danej osoby ze względu na pełnioną funkcję na czas pełnienia tejże funkcji -

c/ dodatkowe podpisanie aktu prawnego przez drugą osobę, potwierdzające jego ważność i przenoszące pełną odpowiedzialność polityczną i prawną na drugiego podpisującego (np. na premiera podpisującego dodatkowo akt głowy państwa) -

d/ zasada wymiaru sprawiedliwości dająca możliwość odwołania się do sądu II instancji -
.....

e/ rząd, który nie dysponuje zapleczem politycznym zapewniającym mu stabilną większość parlamentarną -

7. Uzupełnij tabelę wpisując rok, kiedy miało miejsce referendum ogólnokrajowe oraz imię i nazwisko urzędującego wtedy prezydenta: /5

Referendum w sprawie	Rok	Prezydent
Wstąpienia Polski do UE		
Powszechnego uwłaszczenia obywateli		
Zatwierdzenia konstytucji		
Wprowadzenia JOW		
O niektórych kierunkach wykorzystania majątku państwowego		

Razem pkt. za zad.4-7 -/17

8. Ułóż wydarzenia w kolejności chronologicznej. Wstaw nr 1 przy wydarzeniu najwcześniejszym i nr 2 przy wydarzeniu ostatnim: /2.....



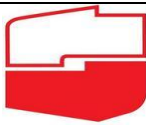
a/ przystąpienie Polski do NATO -

b/ ratyfikacja traktatu akcesyjnego RP do UE -

c/ przystąpienie Polski do Inicjatywy Środkowoeuropejskiej -

d/ przystąpienie Polski do Rady Państw Morza Bałtyckiego -

9. Do podanego loga polskiej partii politycznej dopisz imię i nazwisko jej założyciela i zarazem pierwszego jej lidera - szefa tej partii. /3.....

		
a/	b/	c/

10. Podaj rok uchwalenia podanych dokumentów w RP: /2

a/ Ustawa o partiach politycznych -

b/ Ustawa o mniejszościach narodowych i etnicznych oraz o języku regionalnym -

11. Do premierów III RP dopisz skróty ugrupowań, do których należeli, tworząc rząd: /4




a/ Marek Belka -

b/ Hanna Suchocka -

c/ Tadeusz Mazowiecki -

d/ Jerzy Buzek -

12. Masz poniżej podane loga organizacji międzynarodowych, do których należy Polska. Wpisz: polskie nazwy tych organizacji (w pkt. A); rok przystąpienia Polski do organizacji (B) oraz siedzibę – miejscowość (C). /9

		
A -	A -	A -
.....
B -	B -	B -
.....
C -	C -	C -

Razem pkt. za zad. 8-12 -/20

13. Rozwiń skrót i podaj aktualnego szefa tej instytucji (imię i nazwisko): /3

a/ RPP -

b/ KRRiT –

c/ UKE -

14. Do wymienionych w tekście Konstytucji RP z 2 kwietnia 1997 r. zasad państwa demokratycznego, dopisz obok artykułu nazwę danej zasady ustrojowej. /2

Rozdział I RZECZPOSPOLITA

Art. 3. Rzeczpospolita Polska jest państwem jednolitym.

a/ Zasada:

Art. 8.

1. Konstytucja jest najwyższym prawem Rzeczypospolitej Polskiej.

2. Przepisy Konstytucji stosuje się bezpośrednio, chyba że Konstytucja stanowi inaczej

b/ Zasada:

Razem pkt. za zad. 13-14 -/5

BRUDNOPIS:

Liczba punktów: Podpisy Komitetu Głównego: Spr.: Wer.: